

WPISUJE UCZEŃ

KOD UCZNIKA

--	--	--

DATA URODZENIA UCZNIKA

dzień		miesiąc		rok		

UZUPEŁNIA ZESPÓŁ
NADZORUJACY

miejsce
na naklejkę
z kodem

dysleksja

SPRAWDZIAN W SZÓSTEJ KLASIE SZKOŁY PODSTAWOWEJ *Jabłko*

Instrukcja dla ucznia

1. Sprawdź, czy zestaw egzaminacyjny zawiera 8 stron. Ewentualny brak stron lub inne usterki zgłoś nauczycielowi.
2. Na tej stronie i na karcie odpowiedzi wpisz swój kod i datę urodzenia.
3. Czytaj uważnie wszystkie teksty i zadania.
4. Rozwiązania zapisuj długopisem albo piórem z czarnym lub granatowym tuszem/atramentem. Nie używaj korektora.
5. W zadaniach od 1. do 20. są podane cztery odpowiedzi: A, B, C, D. Odpowiada im następujący układ kratek na karcie odpowiedzi:

A	B	C	D
---	---	---	---

6. Wybierz tylko jedną odpowiedź i zamaluj kratkę z odpowiadającą jej literą – np. gdy wybrałeś odpowiedź „A”:

■	B	C	D
---	---	---	---

6. Staraj się nie popełniać błędów przy zaznaczaniu odpowiedzi, ale jeśli się pomylisz, błędne zaznaczenie otocz kółkiem i zaznacz inną odpowiedź.

⊙ ■	B	C	■
-----	---	---	---

7. Rozwiązania zadań od 21. do 25. zapisz czytelnie i starannie w wyznaczonych miejscach. Pomyłki przekreślaj.
8. Ostatnia strona arkusza jest przeznaczona na brudnopis. Zapisy w brudnopisie nie będą sprawdzane.

**Czas pracy:
60 minut**

**Liczba punktów
do uzyskania: 40**

Powodzenia!

S-A1-021



Jabłko

Żaden owoc nie ma tak starej tradycji jak jabłko. Jabłko było jedynym zakazanym owocem w rajskim ogrodzie.

W mitologii też nie obyło się bez jabłka. Złote jabłko niezgody z napisem „Najpiękniejszej” rzuciła na weselu między biesiadników bogini Eris. Boginie: Hera, Atena i Afrodyta wyciągnęły dłonie, by chwycić owoc. Każda z nich uważała, że tylko jej należy się ten tytuł. Spór miał rozstrzygnąć Parys. Hera obiecała mu władzę, Atena sławę, a Afrodyta najpiękniejszą kobietę za żonę. Rywalizacja zakończyła się zwycięstwem Afrodyty, a spełnienie przez nią obietnicy danej Parysowi stało się przyczyną wojny trojańskiej, która prawdopodobnie miała miejsce w XII wieku p.n.e. Wydarzenia te opisał w „Iliadzie” Homer. Tytuł dzieła pochodzi od Ilionu – dawnej nazwy Troi. Zwycięstwo w wojnie trojańskiej zawdzięczają greccy wojownicy niezwyktemu pomysłowi Odyseusza. Zaproponował on zbudowanie drewnianego konia i umieszczenie w jego wnętrzu wojowników, którzy umożliwiliby dostanie się do miasta. Konia zostawiono przed murami Troi w nadziei, że mieszkańcy miasta przyjmą go jako dar dla Ateny. Tak się też stało. Oto co potrafi spowodować jedno jabłko.

Jabłko jest też jednym z symboli władzy królewskiej. Ojczyznę dzikich gatunków jabłoni są Chiny lub Azja Środkowa. Stamtąd dotarły one do Europy i podbijały po kolei państwa w strefie klimatu umiarkowanego. Taki klimat odpowiada im najbardziej. W tropikach jabłka są niedobre, ponieważ w gorącym klimacie szybko tracą wodę i jędrność.

Jabłko wspaniale działa na krążenie krwi, ułatwia też przyswajanie wapnia przez organizm. Jabłka możemy spożywać przez cały rok pod różnymi postaciami, jednak przetwory z nich, chociaż równie smaczne, nie są już tak wartościowe.

Jabłko wspaniale działa na krążenie krwi, ułatwia też przyswajanie wapnia przez organizm. Jabłka możemy spożywać przez cały rok pod różnymi postaciami, jednak przetwory z nich, chociaż równie smaczne, nie są już tak wartościowe.

Jabłko wspaniale działa na krążenie krwi, ułatwia też przyswajanie wapnia przez organizm. Jabłka możemy spożywać przez cały rok pod różnymi postaciami, jednak przetwory z nich, chociaż równie smaczne, nie są już tak wartościowe.

Zadania od 1. do 10. dotyczą tekstu i mapy.

Zadanie 1. Tytuł „Najpiękniejszej” Parys przyznał:

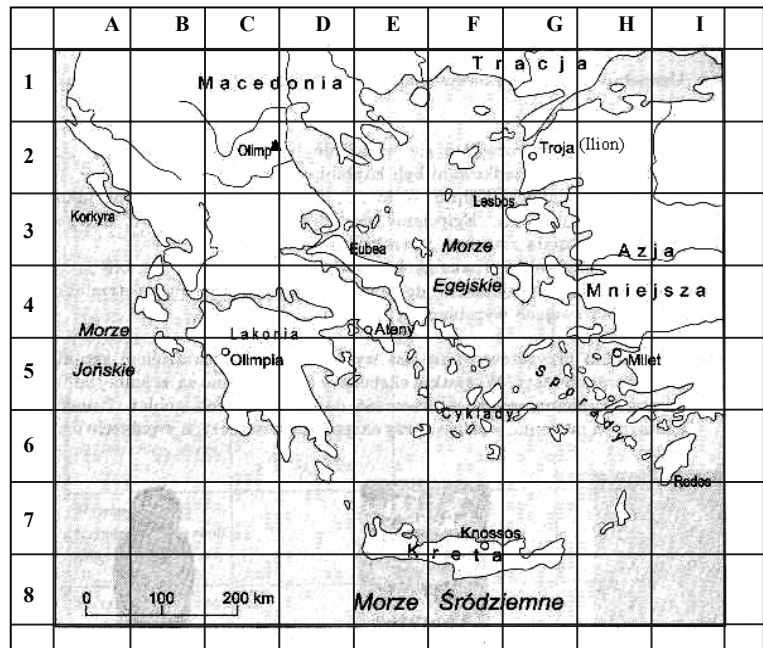
- A. Atenie, B. Herze, C. Afrodycie, D. Eris.

Zadanie 2. Konia trojańskiego użyli w walce:

- A. Rzymianie, B. Grecy, C. Persowie, D. Egipcjanie.

Zadanie 3. Wyrażenie „koń trojański” w znaczeniu przenośnym oznacza:

- A. podstęp, B. wdzięczność, C. życzliwość, D. tchórzostwo.



Zadanie 4. Dzikie gatunki jabłoni pochodzą z kontynentu:

A. australijskiego, B. afrykańskiego, C. azjatyckiego, D. amerykańskiego.

Zadanie 5. Najsmaczniejsze jabłka dojrzewają w strefie klimatu:

A. podbiegunowego, B. umiarkowanego, C. zwrotnikowego, D. równikowego.

Zadanie 6. Najwięcej wartości odżywczych dostarczysz organizmowi, jedząc jabłka:

A. gotowane, B. pieczone, C. suszone, D. surowe.

Zadanie 7. Góra Olimp znajduje się na mapie w kwadracie o współrzędnych:

A. (C, 5) B. (E, 4) C. (G, 2) D. (C, 2)

Zadanie 8. Troja znajduje się od góry Olimp na:


A. północ, B. południe, C. wschód, D. zachód.

Zadanie 9. Na mapie odległość między górą Olimp a Troją wynosi 3,3 cm, więc rzeczywista odległość góry Olimp od Troi wynosi:

A. 33 km B. 66 km C. 330 km D. 660 km

Zadanie 10. Przedstawione na ilustracji berło, jabłko i korona są symbolami władzy:

- A. faraona,
- B. króla,
- C. marszałka,
- D. hetmana.



Zadanie 11.

- [1] „Czerwone jabłuszka,
- [2] Złociste gruszcзки
- [3] Świecą się jak gwiazdy
- [4] Pomiędzy listeczki.”

W cytowanym fragmencie wiersza epitety występują w wersach:

A. [1] i [2] B. [2] i [3] C. [3] i [4] D. [1] i [4].

Zadanie 12. Poetyckie sformułowanie „jabłka na drzewach tańczą” to:

- A. epitet,
- B. przenośnia,
- C. porównanie,
- D. wyrazy dźwiękonaśladowcze.

Zadanie 13. W którym szeregu wyrazy zapisano w porządku alfabetycznym?

- A. jabłecznik, jabłko, jabłkowy, jabłuszko;
- B. jabłko, jabłuszko, jabłecznik, jabłkowy;
- C. jabłkowy, jabłuszko, jabłecznik, jabłko;
- D. jabłuszko, jabłkowy, jabłko, jabłecznik.

Zadanie 14. Chcąc upiec **jabłecznik**, poszukasz przepisu w książce:

- A. „Domowe przetwory z owoców”,
- B. „Owocowe ciasta i desery”,
- C. „Dżemy i galaretki z owoców”,
- D. „Owoce egzotyczne w potrawach”.

Zadanie 15. Przed zjedzeniem należy jabłko umyć, żeby:

- A. nawilżyć skórę,
- B. usunąć warstwę wosku,
- C. usunąć drobnoustroje,
- D. rozpuścić sole mineralne.

Rozwiązując zadania 16., 17., 18., wykorzystaj dane z tabeli.

Odmiana jabłek	Termin zbioru jabłek	Dojrzałość jabłek do spożycia	Okres przechowywania do ...
alkmene	IX	IX	XI
mekintosh	IX	X	XII
starting	X	XI	XII
idared	X	I	IV

Zadanie 16. Które jabłka można przechowywać co najmniej pół roku od terminu zbioru?

- A. starting,
- B. mekintosh,
- C. alkmene,
- D. idared.

Zadanie 17. Odmiana jabłek starting dojrzewa do spożycia:

- A. wiosną,
- B. latem,
- C. jesienią,
- D. zimą.

Zadanie 18. Które jabłko nadaje się do spożycia już w trakcie zbioru?

- A. starting,
- B. mekintosh,
- C. idared,
- D. alkmene.

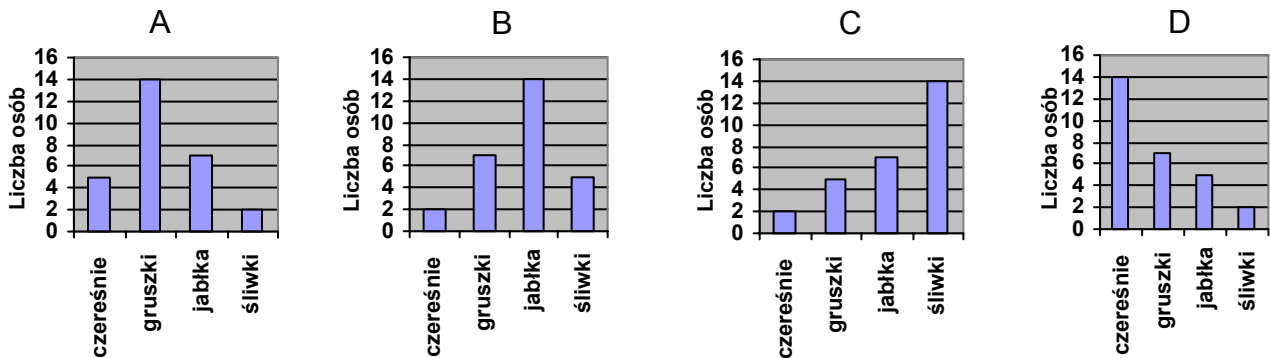
Zanim rozwiążesz zadania 19. i 20., przeczytaj poniższy tekst.

Przeprowadzono ankietę. Zapytano 28 osób, jakie owoce lubią najbardziej. Okazało się, że jabłka najbardziej lubi 14 osób, 7 osób woli jeść gruszki, 5 osób najbardziej lubi śliwki, a tylko 2 osoby czereśnie.

Zadanie 19. 25% spośród ankietowanych osób lubi:

- A. jabłka, B. gruszki, C. śliwki, D. czereśnie.

Zadanie 20. Który diagram przedstawia wyniki przeprowadzonej ankiety?



Zadanie 21. Napisz tekst pt. „Warto jeść jabłka”. Zachęcając do jedzenia tych owoców, uwzględnij ich smak i wartości odżywcze.



.....


.....

.....

.....

Zadanie 23. Sad ma kształt prostokąta o bokach 25 metrów i 30 metrów. Połowę jego powierzchni zajmują jabłonie, 30% powierzchni grusze, a resztę śliwy. Oblicz, na ilu metrach kwadratowych powierzchni sadu rosną śliwy.


Tu zapisz obliczenia:



Odpowiedź: Śliwy rosną na metrach kwadratowych powierzchni sadu.

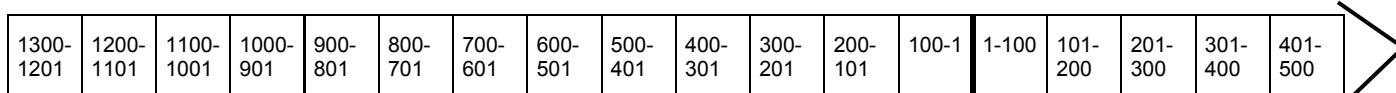
Zadanie 24. Zakupiłeś na targu 50 kg jabłek po cenie hurtowej i zapłaciłeś za nie 100 złotych. W sklepie kilogram jabłek tej samej odmiany kosztował 2 zł 60 gr. Oblicz, ile zaoszczędziłeś, kupując jabłka po cenie hurtowej.

Tu zapisz obliczenia:



Odpowiedź: Kupując jabłka po cenie hurtowej, zaoszczędziłem zł.

Zadanie 25. Zaznacz znakiem **X** na osi czasu wiek, w którym toczyła się wojna trojańska.



WYPEŁNIA UCZEŃ

Data urodzenia ucznia

--	--	--	--	--	--	--	--

dzień
miesiąc
rok

KOD UCZNIKA

--	--	--

Nr zad.	Odpowiedzi			
1	<input type="checkbox"/> A	<input type="checkbox"/> B	<input type="checkbox"/> C	<input type="checkbox"/> D
2	<input type="checkbox"/> A	<input type="checkbox"/> B	<input type="checkbox"/> C	<input type="checkbox"/> D
3	<input type="checkbox"/> A	<input type="checkbox"/> B	<input type="checkbox"/> C	<input type="checkbox"/> D
4	<input type="checkbox"/> A	<input type="checkbox"/> B	<input type="checkbox"/> C	<input type="checkbox"/> D
5	<input type="checkbox"/> A	<input type="checkbox"/> B	<input type="checkbox"/> C	<input type="checkbox"/> D
6	<input type="checkbox"/> A	<input type="checkbox"/> B	<input type="checkbox"/> C	<input type="checkbox"/> D
7	<input type="checkbox"/> A	<input type="checkbox"/> B	<input type="checkbox"/> C	<input type="checkbox"/> D
8	<input type="checkbox"/> A	<input type="checkbox"/> B	<input type="checkbox"/> C	<input type="checkbox"/> D
9	<input type="checkbox"/> A	<input type="checkbox"/> B	<input type="checkbox"/> C	<input type="checkbox"/> D
10	<input type="checkbox"/> A	<input type="checkbox"/> B	<input type="checkbox"/> C	<input type="checkbox"/> D
11	<input type="checkbox"/> A	<input type="checkbox"/> B	<input type="checkbox"/> C	<input type="checkbox"/> D
12	<input type="checkbox"/> A	<input type="checkbox"/> B	<input type="checkbox"/> C	<input type="checkbox"/> D
13	<input type="checkbox"/> A	<input type="checkbox"/> B	<input type="checkbox"/> C	<input type="checkbox"/> D
14	<input type="checkbox"/> A	<input type="checkbox"/> B	<input type="checkbox"/> C	<input type="checkbox"/> D
15	<input type="checkbox"/> A	<input type="checkbox"/> B	<input type="checkbox"/> C	<input type="checkbox"/> D
16	<input type="checkbox"/> A	<input type="checkbox"/> B	<input type="checkbox"/> C	<input type="checkbox"/> D
17	<input type="checkbox"/> A	<input type="checkbox"/> B	<input type="checkbox"/> C	<input type="checkbox"/> D
18	<input type="checkbox"/> A	<input type="checkbox"/> B	<input type="checkbox"/> C	<input type="checkbox"/> D
19	<input type="checkbox"/> A	<input type="checkbox"/> B	<input type="checkbox"/> C	<input type="checkbox"/> D
20	<input type="checkbox"/> A	<input type="checkbox"/> B	<input type="checkbox"/> C	<input type="checkbox"/> D

Miejsce na naklejkę z kodem

WYPEŁNIA ZESPÓŁ NADZORUJĄCY

A	<input type="checkbox"/>	K	<input type="checkbox"/>	U	<input type="checkbox"/>	0	<input type="checkbox"/>	0	<input type="checkbox"/>
B	<input type="checkbox"/>	L	<input type="checkbox"/>	V	<input type="checkbox"/>	1	<input type="checkbox"/>	1	<input type="checkbox"/>
C	<input type="checkbox"/>	M	<input type="checkbox"/>	W	<input type="checkbox"/>	2	<input type="checkbox"/>	2	<input type="checkbox"/>
D	<input type="checkbox"/>	N	<input type="checkbox"/>	X	<input type="checkbox"/>	3	<input type="checkbox"/>	3	<input type="checkbox"/>
E	<input type="checkbox"/>	O	<input type="checkbox"/>	Y	<input type="checkbox"/>	4	<input type="checkbox"/>	4	<input type="checkbox"/>
F	<input type="checkbox"/>	P	<input type="checkbox"/>	Z	<input type="checkbox"/>	5	<input type="checkbox"/>	5	<input type="checkbox"/>
G	<input type="checkbox"/>	Q	<input type="checkbox"/>	1	<input type="checkbox"/>	6	<input type="checkbox"/>	6	<input type="checkbox"/>
H	<input type="checkbox"/>	R	<input type="checkbox"/>	2	<input type="checkbox"/>	7	<input type="checkbox"/>	7	<input type="checkbox"/>
I	<input type="checkbox"/>	S	<input type="checkbox"/>	3	<input type="checkbox"/>	8	<input type="checkbox"/>	8	<input type="checkbox"/>
J	<input type="checkbox"/>	T	<input type="checkbox"/>	4	<input type="checkbox"/>	9	<input type="checkbox"/>	9	<input type="checkbox"/>

dysleksja
 nieobecny

zwolniony

WYPEŁNIA EGZAMINATOR

Nr zad.	Nr kryt	Liczba punktów		
		0	1	2
21	I	<input type="checkbox"/>	<input type="checkbox"/>	
	II	<input type="checkbox"/>	<input type="checkbox"/>	
	III	<input type="checkbox"/>	<input type="checkbox"/>	
22	I	<input type="checkbox"/>	<input type="checkbox"/>	
	II	<input type="checkbox"/>	<input type="checkbox"/>	
	III	<input type="checkbox"/>	<input type="checkbox"/>	
	IV	<input type="checkbox"/>	<input type="checkbox"/>	
	V	<input type="checkbox"/>	<input type="checkbox"/>	
	VI	<input type="checkbox"/>	<input type="checkbox"/>	<input type="checkbox"/>
23	VII	<input type="checkbox"/>	<input type="checkbox"/>	
	VIII	<input type="checkbox"/>	<input type="checkbox"/>	
	I	<input type="checkbox"/>	<input type="checkbox"/>	
	II	<input type="checkbox"/>	<input type="checkbox"/>	
24	III	<input type="checkbox"/>	<input type="checkbox"/>	
	IV	<input type="checkbox"/>	<input type="checkbox"/>	
	V	<input type="checkbox"/>	<input type="checkbox"/>	
25	I	<input type="checkbox"/>	<input type="checkbox"/>	
	II	<input type="checkbox"/>	<input type="checkbox"/>	

S-A1-021